


Naam:

Klas:

Opdracht 1: het Denderbekken



In welke provincie en stad ligt de **bron** van de Dender?

- Provincie: Henegouwen (Wallonië)
- Stad: Ath

In welke provincie en stad ligt de **monding** van de Dender?

- Provincie: Oost-Vlaanderen (Vlaanderen)
- Stad: Dendermonde


In welke stroom mondt de Dender uit? De Schelde

Duid op de kaart met een pijl de richting aan waarin het water stroomt.

Stel dat iemand in Aalst een blikje in de Dender gooit.

Naar welke zee zal dit blikje afdriven? De Noordzee

## Opdracht 2: varen op de Dender



Bekijk de kaart op pagina 9-3.

Waar begint jullie boottocht? ..... Waar eindigt deze? .....

Duid met een pijl de richting aan waarin het water stroomt.

Hoe bepaal je de linkeroever van de Dender?

de oever die zich aan de linkerkant van de waterloop bevindt wanneer je stroomafwaarts (= naar de monding) kijkt

Hoe bepaal je de rechteroever van de Dender?

de oever die zich aan de rechterkant van de waterloop bevindt wanneer je stroomafwaarts (= naar de monding) kijkt

Duid de rechter- (R) en linkeroever (L) aan op de kaart.

Mijn school is gelegen op de LINKER / RECHTER oever van de Dender (omcirkel het juiste antwoord.)

Ath ligt 30 m hoger dan Dendermonde. \_\_\_\_\_

Hoe heet de lift die schepen kunnen gebruiken om naar boven of naar beneden te gaan?

Een sluis

Omcirkel alle sluizen op de kaart.

Door welke sluizen zal je varen met de milieuboot? Met welke nummers worden deze op de kaart aangeduid?

22: de sluis van Denderbelle

29: de tijsluis van Dendermonde

Kleur de cijfers bij de tekeningen: groen voor natuur, geel voor bedrijven en paars voor ontspanning.

Welke kleur of kleuren komen het meeste voor? groen

De Dender tussen Aalst en Dendermonde wordt dus nu het meest gebruikt voor (omcirkel het juiste antwoord):

natuur

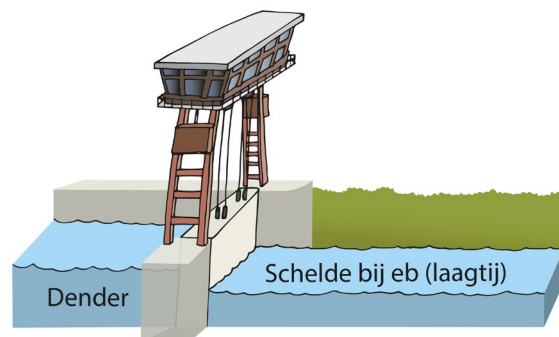
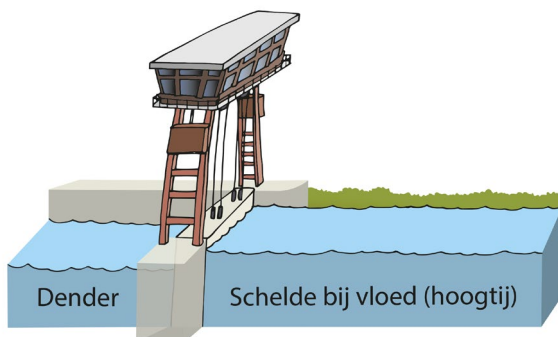
bedrijven

ontspanning

De tijsluis in Dendermonde scheidt de Dender van de getijden op de Schelde. \_\_\_\_\_

Wanneer kan het Denderwater naar de Schelde stromen en verder naar de zee?

Bekijk de tekeningen en omcirkel het juiste antwoord: bij HOOGTIJ / LAAGTIJ op de Schelde.



Wat zou er gebeuren met het Scheldewater indien er geen tijsluis in Dendermonde bestond?

Bij hoogtij zou het Scheldewater in de Dender stromen

# Varen op de Dender tussen Aalst en Dendermonde

