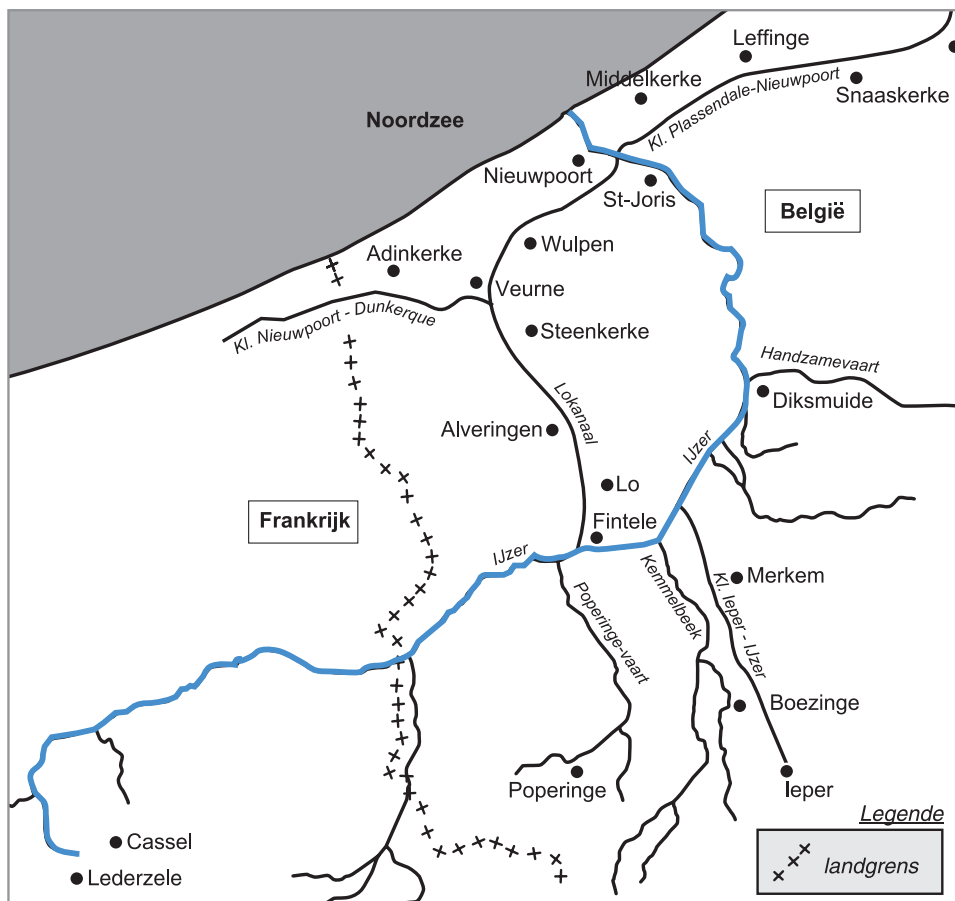



Naam:

Klas:

Opdracht 1: de IJzer




- Over welke landen strekt het IJzerbekken zich uit?
 1. België.....
 2. Frankrijk.....
- De IJzer ontspringt in Noord-Frankrijk en mondt uit in de Noordzee.

Hoe noemt een waterloop die in de zee uitmondt? (omcirkel het juiste antwoord)


RIVIER / KANAAL / STROOM
- Kleur de volledige loop van de IJzer **blauw** op de kaart.
- Leg het verschil uit tussen een rivier en een kanaal, ook wel vaart genoemd:

Rivier: is een natuurlijke waterweg, met bron en monding en vele bochten.....

Kanaal: is een kunstmatig (door de mens) aangelegde waterweg met weinig bochten en voldoende diepte voor de scheepvaart.....



Opdracht 2: varen tussen Diksmuide en Nieuwpoort



Duid op de kaart (pag. 9-3) met een pijl de richting aan waarin het water van de IJzer stroomt.

Verklaar:

- rechteroever: de oever die zich aan de rechterkant van de waterloop bevindt
wanneer je stroomafwaarts (= naar de monding) kijkt

- linkeroever: de oever die zich aan de linkerkant van de waterloop bevindt
wanneer je stroomafwaarts (= naar de monding) kijkt

Duid ook de rechter- (R) en linkeroever (L) aan op de kaart.

Welke waterloop mondt er ter hoogte van Diksmuide uit in de IJzer? Handzamevaart

Op welke oever is deze monding? LINKEROEVER RECHTEROEVER (omcirkel het juiste antwoord)


Welke kanalen komen samen ter hoogte van de Ganzenpoot? _____

1. Nieuw Bedelf

2. Kanaal Plassendale-Nieuwpoort

3. Kanaal Veurne-Ambacht

4. Kanaal Nieuwpoort-Duinkerke



Omcirkel op de kaart alle sluizen die je ziet ter hoogte van de Ganzenpoot. Raadpleeg de legende bij de kaart (pag. 9-3).

De Noordzee kent getijden.

Bij EB / VLOED (omcirkel het juiste antwoord) stroomt zeewater in de IJzermonding landinwaarts.

Wat doen de sluizen met het zeewater?

De sluizen houden het zeewater tegen

Gelukkig is er een groot 'spaarbekken' in Nieuwpoort waarin het afstromende water van de IJzer tijdelijk kan blijven staan, in afwachting dat de sluizen opnieuw open gaan.

Bij welk getij op de Noordzee kunnen de sluizen opnieuw geopend worden?


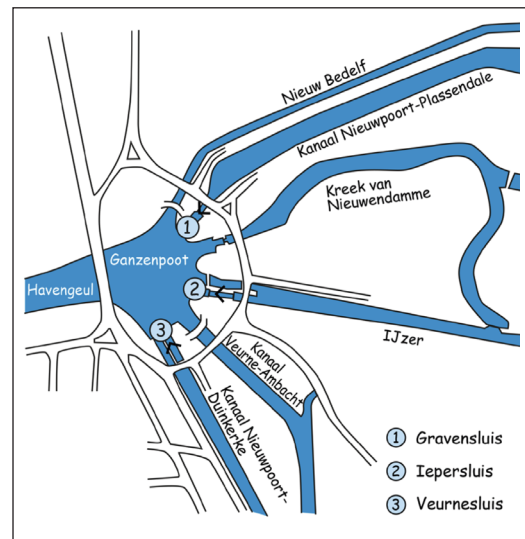
EB / VLOED (omcirkel het juiste antwoord)

Kleur het Spaarbekken van Nieuwpoort **paars** op de kaart p 9-3.

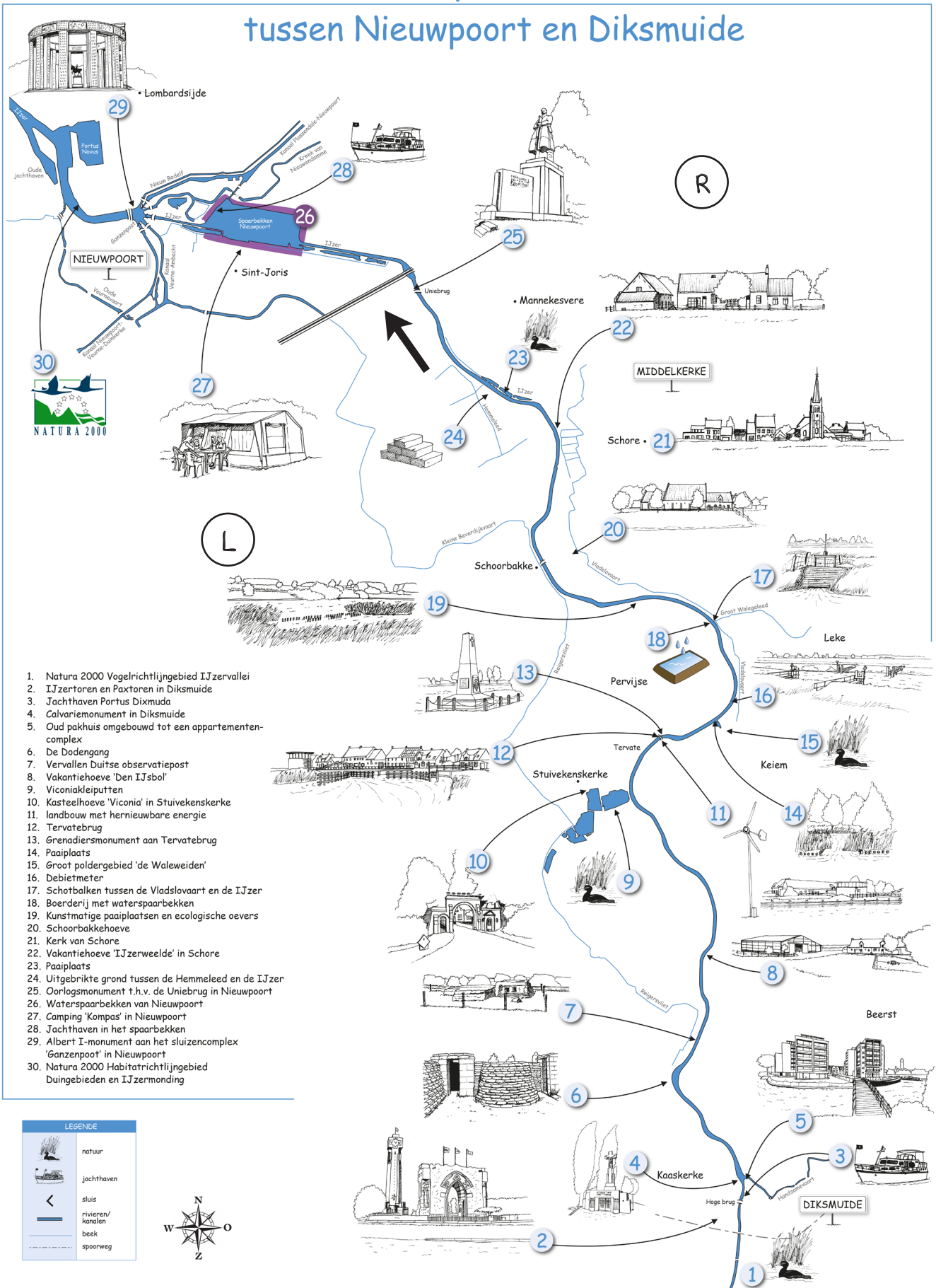
De IJzer speelde een belangrijke rol in de Eerste Wereldoorlog. _____

Welke monumenten verwijzen naar deze Grote Oorlog? Met welk nummer worden ze op de kaart aangeduid?

De IJzertoren (nr. 1), de Dodengang (nr. 5), enz.



Varen op de IJzer tussen Nieuwpoort en Diksmuide



1. Natura 2000 Vogelrichtlijngebied IJzervallei
2. IJzertoren en Paxtoren in Diksmuide
3. Jachthaven Portus Dixmuda
4. Calvariemonument in Diksmuide
5. Oud pakhuis omgebouwd tot een appartementen-complex
6. De Dodengang
7. Vervallen Duitse observatiepost
8. Vakantiehoeve 'Den IJsbol'
9. Viconiakleiputten
10. Kasteelhoeve 'Viconia' in Stuvekenskerke
11. landbouw met hernieuwbare energie
12. Tervatebrug
13. Grenadiersmonument aan Tervatebrug
14. Paaiplaats
15. Groot poldergebied 'de Waleweiden'
16. Debietmeter
17. Schotbalken tussen de Vladslovaart en de IJzer
18. Boerderij met waterspaarbekken
19. Kunstmatige paaiplaatsen en ecologische oevers
20. Schoorbakkehoeve
21. Kerk van Schore
22. Vakantiehoeve 'IJzerweelde' in Schore
23. Paaiplaats
24. Uitgebrikte grond tussen de Hemmeleed en de IJzer
25. Oorlogsmonument t.h.v. de Uniebrug in Nieuwpoort
26. Waterspaarbekken van Nieuwpoort
27. Camping 'Kompas' in Nieuwpoort
28. Jachthaven in het spaarbekken
29. Albert I-monument aan het sluisencomplex 'Ganzenpoot' in Nieuwpoort
30. Natura 2000 Habitatrichtlijngebied Duingebieden en IJzermonding

LEGENDE	
	natuur
	jachthaven
	sluis
	rivieren/ kanalen
	beek
	spoorweg

