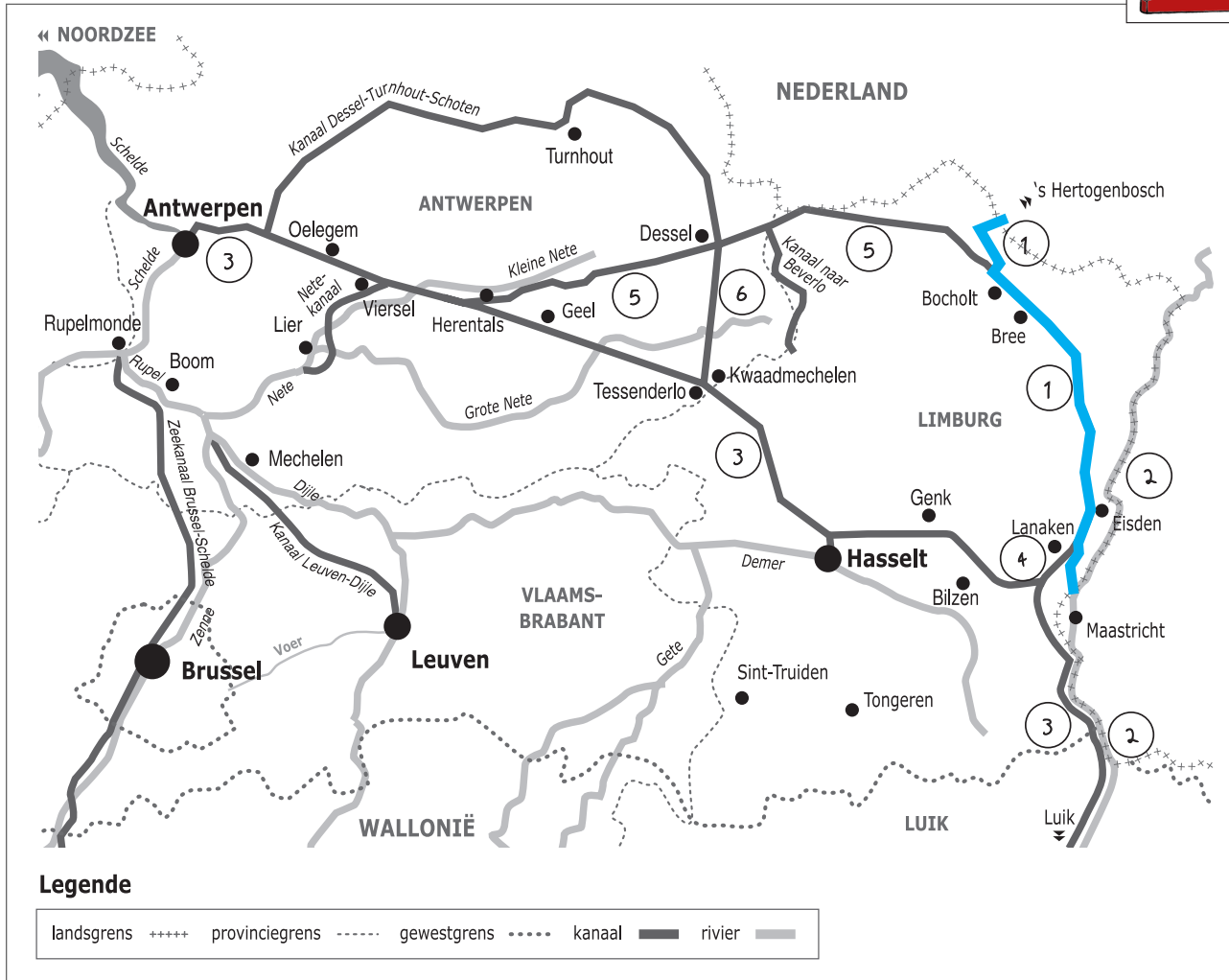



Naam:

Klas:

Opdracht 1: situering van enkele waterlopen



Waterlopen

Duid met een cijfer onderstaande waterlopen aan op de kaart. Gebruik hiervoor een atlas.

- 1 - Zuid-Willemsvaart
- 2 - Maas
- 3 - Albertkanaal
- 4 - Kanaal Briegden-Neerharen
- 5 - Kanaal Bocholt-Herentals
- 6 - Kanaal Dessel-Kwaadmechelen


Kleur de Zuid-Willemsvaart **blauw**.

In welke Nederlandse stad begint de Zuid-Willemsvaart? Maastricht

Het water dat in het kanaal stroomt, is afkomstig van een grote rivier, nl. de Schelde (de Maas) (omcirkel het juiste antwoord).

Met welke andere kanalen staat de Zuid-Willemsvaart in verbinding?

het Kanaal Briegden-Neerharen, het Kanaal Bocholt-Herentals



— Leg het verschil uit tussen een rivier en een kanaal. Geef telkens 2 voorbeelden.


Rivier: is een natuurlijke waterweg, met bron en monding en vele bochten.

Vb. Schelde, Maas, Demer

Kanaal: is een kunstmatig (door de mens) aangelegde waterweg met weinig bochten en voldoende diep voor de scheepvaart.

Vb. Zuid-Willemsvaart, Kanaal Bocholt-Herentals, Albertkanaal

Opdracht 2: varen tussen Eisden en Bree



Bekijk de kaart op pagina 9-3.

— Waar begint jullie boottocht? Waar eindigt deze?

— Het kanaalwater van de Zuid-Willemsvaart stroomt van zuid naar noord.

Duid met een pijl op de kaart de richting aan die het water in de Zuid-Willemsvaart volgt.

Verklaar:

- rechteroever: de oever die zich aan de rechterkant van de waterloop bevindt.
wanneer je stroomafwaarts (= naar de monding) kijkt

- linkeroever: de oever die zich aan de linkerkant van de waterloop bevindt.
wanneer je stroomafwaarts (= naar de monding) kijkt

Duid de rechter- (R) en linkeroever (L) ook aan op de kaart.

Onze school is gelegen op de LINKER / RECHTER oever van het kanaal (omcirkel het juiste antwoord).

— Som de 4 steden of gemeenten op die we voorbij varen in stroomafwaartse richting.

Maasmechelen, Dilsen-Stokkem, Maaseik, Bree

— Bekijk de legende bij de kaart op pagina 9-3. Je ziet dat het kanaal voor verschillende doeleinden wordt gebruikt.

Kleur nu de cijfers bij de tekeningen: groen voor natuur, geel voor bedrijven en paars voor ontspanning.

Welke kleuren gebruikte je het meest op de kaart? groen en geel

De Zuid-Willemsvaart wordt dus nu het meest gebruikt voor (omcirkel de juiste antwoorden):

natuur

bedrijven

ontspanning

— Zoek de IJterbeek op de kaart op pagina 9-3 en kleur ze blauw. Deze beek mondt niet uit in het kanaal.

Kijk op de kaart en leg uit wat er met deze beek gebeurt.

Ze 'duikt' onder het kanaal door

Waarom?

Het kanaal ligt veel hoger dan de beken errond

Varen op de Zuid-Willemsvaart tussen Eisd en Bree

