


Naam:

Klas:

Opdracht 1: de verschillende waterwegen



- Zoek het verschil op tussen een rivier en een kanaal, ook wel vaart genoemd. Zoek van elk een voorbeeld op de kaart.

Rivier: is een natuurlijke waterweg, met bron en monding en vele bochten. Vb. Leie

Kanaal: is een kunstmatig (door de mens) aangelegde waterweg met weinig bochten en voldoende diep voor de scheepvaart. Vb. Ringvaart
- Volgens de kaart kan je op 2 verschillende manieren van Gent naar Deinze varen. De ene weg gaat via een rivier. Welke? de Leie


Kleur deze rivier blauw op de kaart p.9-3.
- De andere weg gaat via meerdere kanalen. Welke?

de Brugse Vaart, Kanaal Gent-Brugge-Oostende, Afdelingskanaal van de Leie

Kleur deze kanalen rood op de kaart p.9-3.
- Op welke manier reist onze grote milieuboot het best van Gent naar Deinze? Leg uit waarom.

Een groot schip zoals de milieuboot reist het best langs de kanalen omdat deze waterwegen rechte van vorm zijn.

## Opdracht 2: varen tussen Gent en Deinze



Bekijk de kaart op pagina 9-3.

Waar begint jullie boottocht? .....

Waar eindigt deze? .....

Het water van de Afleidingskanaal van de Leie stroomt van zuid naar noord.

Duid met een pijl op de kaart de stroomrichting aan.

Hoe bepaal je de linkeroever van een waterloop?

De oever die zich aan de linkerkant van de waterloop bevindt wanneer je stroomafwaarts (= naar de monding) kijkt.....

Hoe bepaal je de rechteroever van een waterloop?

De oever die zich aan de rechterkant van de waterloop bevindt wanneer je stroomafwaarts (= naar de monding) kijkt.....

Duid de rechter- (R) en linkeroever (L) van het Afleidingskanaal van de Leie aan op de kaart.


Mijn school is gelegen op de LINKER / RECHTER oever van een waterloop (omcirkel het juiste antwoord).

Kleur de cijfers bij de tekeningen: **groen** voor natuur, **geel** voor bedrijven en **paars** voor ontspanning.

Welke kleur(en) komen het meeste voor? ..groen.....

Wat zullen we vooral waarnemen langs de oevers van de waterlopen? (omcirkel het juiste antwoord)

NATUUR / BEDRIJVEN / ONTSPANNING



Het afvalwater van de riolen wordt gezuiverd in een rioolwaterzuiveringsinstallatie.

In welke gemeenten vind je een rioolwaterzuiveringsinstallatie terug? Tip: kijk hiervoor naar de legende van de kaart.

Gent, Zomergem, Landegem-Nevele, Deinze.....

Omcirkel deze rioolwaterzuiveringsinstallaties in het **bruin**.


Op de kaart staan er, naast de waterwegen, nog 2 andere manieren waarop vrachten en personen vervoerd kunnen worden. Welke twee manieren vind je op de kaart?

autosnelweg E40 en R4.....

spoorweg.....

Welke manier(en) zijn het milieuvriendelijkst om grote vrachten te vervoeren?

scheepvaart, spoorweg.....



# Varen op de Brugse Vaart, het Kanaal Gent-Brugge-Oostende en het Afleidingskanaal van de Leie, tussen Gent en Deinze

