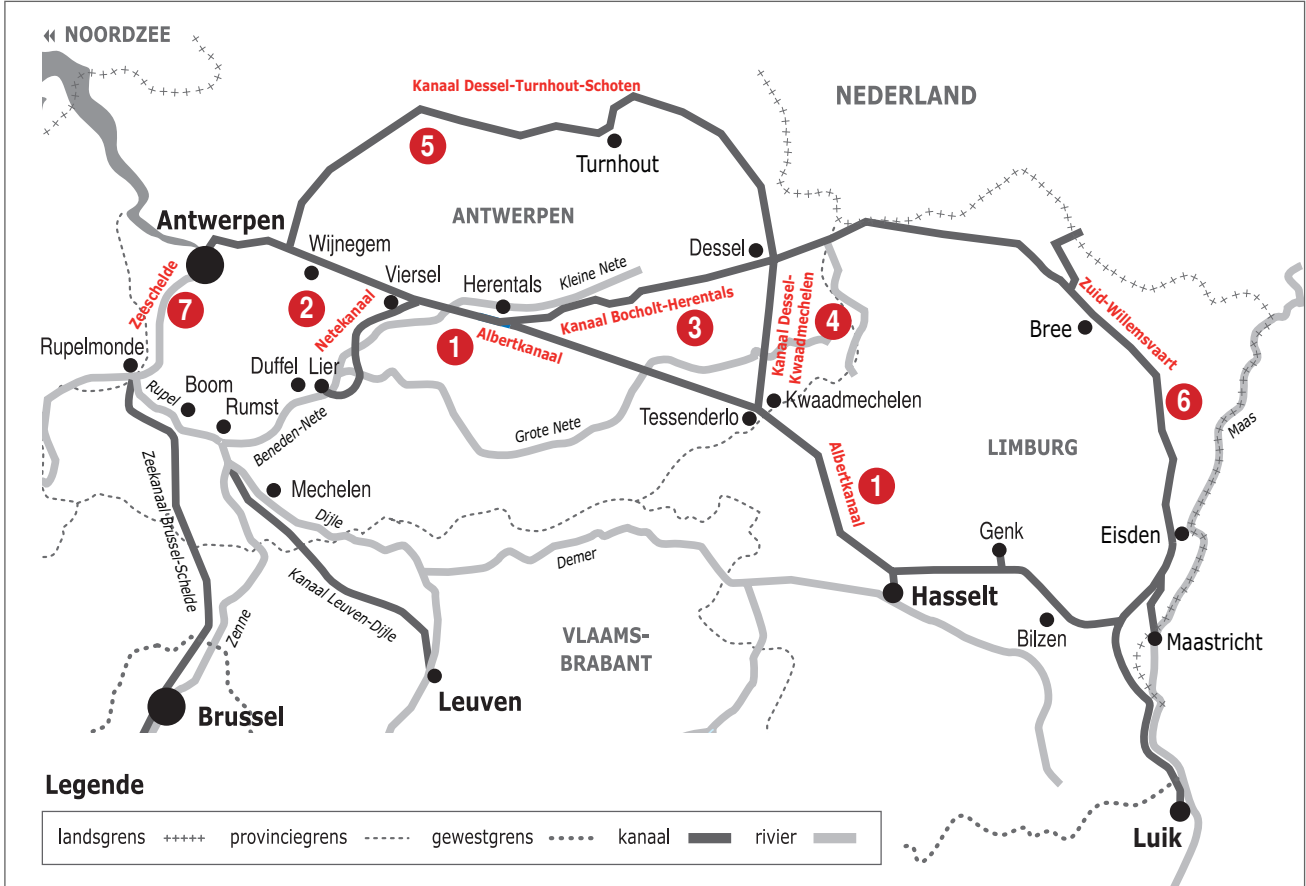



Naam:

Klas:

Opdracht 1: Rivieren en kanalen



Weg van het water

Duid met nummers volgende waterwegen aan op de kaart. Gebruik hiervoor een atlas.

- 1 - Albertkanaal | 2 - Netekanaal | 3 - Kanaal Bocholt-Herentals | 4 - Kanaal Dessel-Kwaadmechelen |
- 5 - Kanaal Dessel-Turnhout-Schoten | 6 - Zuid-Willemsvaart | 7 - Zeeschelde

- In welke Waalse stad bevindt zich het beginpunt van het Albertkanaal? ...Luik.....
- In welke Vlaamse stad bevindt zich het eindpunt van het Albertkanaal? ...Antwerpen.....


Leg het verschil uit tussen een rivier en een kanaal. Geef telkens een voorbeeld.

Rivier: ...is een natuurlijke waterweg, met bron en monding en vele bochten.....

Kanaal: ...is een kunstmatig (door de mens) aangelegde waterweg met weinig bochten en voldoende diep voor de scheepvaart.....

Welke waterloop uit vraag 1 is een 'rivier'? nr. 7: Zeeschelde
Welke rivier staat in Luik in verbinding met het Albertkanaal? Maas
Deze rivier voorziet het Albertkanaal van voldoende water.

Opdracht 2: varen tussen Wijnegem en Antwerpen



Bekijk de kaart op pag. 9-3.

- Je milieuboottocht start en eindigt in 'Kempisch dok'. Vind je deze terug op de kaart? Zet er een kruisje bij. Een dok is een deel van een haven waar schepen goederen kunnen laden en lossen. Je boottocht start en eindigt dus in een 'haven'.
- Ken jij het Engelse woord voor 'haven'? Zoek het even op: Port
- De Antwerpse haven kreeg een nieuwe Engelse naam. Zoek deze naam op de kaart: Port of Antwerp-Bruges
Hier komen grote zeeschepen dicht bij de stad om goederen te laden of te lossen. Antwerpen heeft de 2de grootste haven van Europa!
- Ook vanuit de Zeeschelde kunnen schepen of plezierboten naar de dokken van de haven varen. Via welke sluizen kunnen ze dan varen? Omcirkel ze ook op de kaart.
Royerssluis, Kattendijksluis
- Het water van het Albertkanaal stroomt naar de haven toe. Duid met een pijl de richting aan waarin het water stroomt. Verklaar:
- rechteroever: de oever die zich aan de rechterkant van de waterloop bevindt
wanneer je stroomafwaarts (= naar de monding) kijkt
- linkeroever: de oever die zich aan de linkerkant van de waterloop bevindt
wanneer je stroomafwaarts (= naar de monding) kijkt
Duid de rechter- (R) en linkeroever (L) ook aan op de kaart.
Onze school is gelegen op de LINKER / RECHTER oever van het kanaal (schrappen wat niet past).
- Tijdens je vaartocht vaar je voorbij de monding van een ander kanaal. Welk kanaal zie je uitmonden in het Albertkanaal ter hoogte van Schoten? Kanaal Dessel-Schoten
- Hoe heet de constructie die het water van de Braambeek en de Wezelse Beek onder het Albertkanaal door leidt? Tip: kijk hiervoor naar de legende van de kaart. een duiker
- Het afvalwater van de riolen wordt gezuiverd in een rioolwaterzuiveringsinstallatie (RWZI). In welke gemeenten langs het kanaal vind je een RWZI terug? Tip: kijk hiervoor naar de legende van de kaart.
Schoten, Mersem (de RWZI's van Schijnpoot en Wommelgem
liggen verder verwijderd van het Albertkanaal).
- Bekijk de legende bij de kaart en kleur de cijfers bij de tekening: **groen** voor natuur, **geel** voor bedrijven en **paars** voor ontspanning. Welke kleur(en) komen het meeste voor? geel
Wat zullen we vooral waarnemen langs de oevers van de waterlopen? (omcirkel het juiste antwoord)
NATUUR BEDRIJVEN ONTSPANNING

