


Naam:

Klas:

Opdracht 1: het Denderbekken



In welke provincie en stad ligt de **bron** van de Dender?

- Provincie: .....
- Stad: .....

In welke provincie en stad ligt de **monding** van de Dender?

- Provincie: .....
- Stad: .....


In welke stroom mondt de Dender uit? .....

Duid op de kaart met een pijl de richting aan waarin het water stroomt.

Stel dat iemand in Aalst een blikje in de Dender gooit.

Naar welke zee zal dit blikje afdrijven? .....

## Opdracht 2: varen op de Dender



Bekijk de kaart op pagina 9-3.

● Waar begint jullie boottocht? ..... Waar eindigt deze? .....

● Duid met een pijl de richting aan waarin het water stroomt.

Hoe bepaal je de linkeroever van de Dender?

.....

.....


Hoe bepaal je de rechteroever van de Dender?

.....

Duid de rechter- (R) en linkeroever (L) aan op de kaart.

Mijn school is gelegen op de LINKER / RECHTER oever van de Dender (omcirkel het juiste antwoord.)

● Ath ligt 30 m hoger dan Dendermonde. \_\_\_\_\_  
Hoe heet de lift die schepen kunnen gebruiken om naar boven of naar beneden te gaan?



Omcircel alle sluizen op de kaart.

Door welke sluizen zal je varen met de milieuboot? Met welke nummers worden deze op de kaart aangeduid?

.....

.....

● Kleur de cijfers bij de tekeningen: **groen** voor natuur, **geel** voor bedrijven en **paars** voor ontspanning.

Welke kleur of kleuren komen het meeste voor? .....

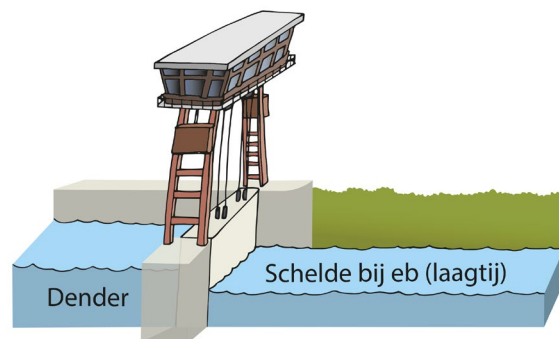
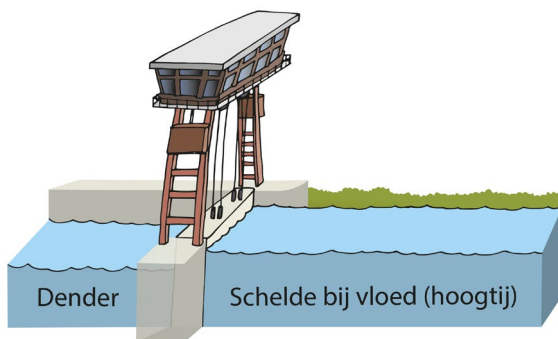

De Dender tussen Aalst en Dendermonde wordt dus nu het meest gebruikt voor (omcirkel het juiste antwoord):

*natuur*      *bedrijven*      *ontspanning*

● De tijsluis in Dendermonde scheidt de Dender van de getijden op de Schelde. \_\_\_\_\_

Wanneer kan het Denderwater naar de Schelde stromen en verder naar de zee?

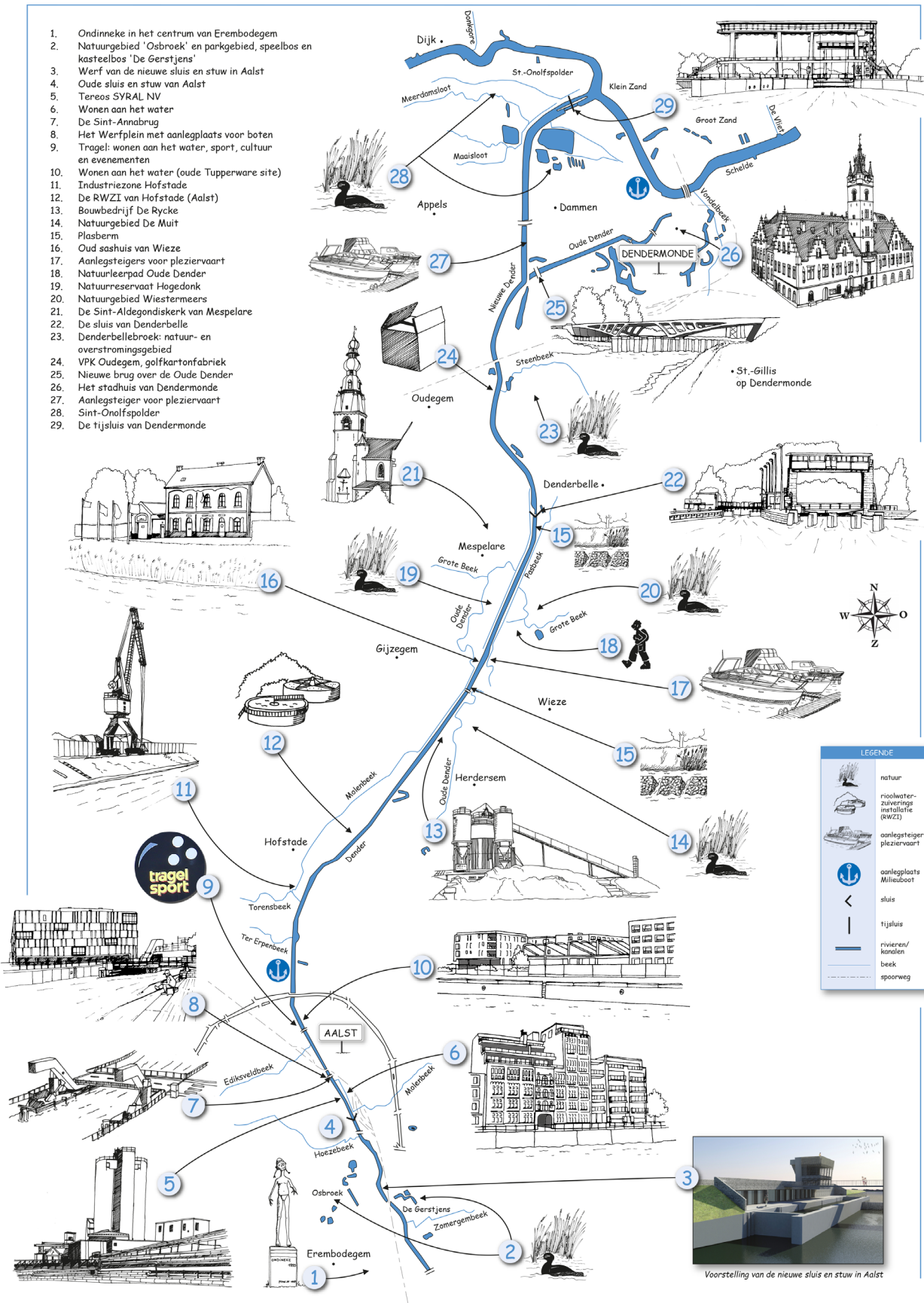
Bekijk de tekeningen en omcirkel het juiste antwoord: bij HOOGTIJ / LAAGTIJ op de Schelde.



Wat zou er gebeuren met het Scheldewater indien er geen tijsluis in Dendermonde bestond?

.....

# Varen op de Dender tussen Aalst en Dendermonde



1. Ondinneke in het centrum van Erembodegem
2. Natuurgebied 'Osbroek' en parkgebied, speelbos en kasteelbos 'De Gerstjens'
3. Werf van de nieuwe sluis en stuw in Aalst
4. Oude sluis en stuw van Aalst
5. Tereos SYRAL NV
6. Wonen aan het water
7. De Sint-Annabrug
8. Het Werfplein met aanlegplaats voor boten
9. Tragel: wonen aan het water, sport, cultuur en evenementen
10. Wonen aan het water (oude Tupperware site)
11. Industriezone Hofstade
12. De RWZI van Hofstade (Aalst)
13. Bouwbedrijf De Rycke
14. Natuurgebied De Muut
15. Plasberm
16. Oud sashuis van Wieze
17. Aanlegsteigers voor pleziervaart
18. Natuurleerpad Oude Dender
19. Natuurreservaat Hogedonk
20. Natuurgebied Wiestermeeus
21. De Sint-Aldegondiskerk van Mespelare
22. De sluis van Denderbelle
23. Denderbellebroek: natuur- en overstromingsgebied
24. VPK Oudegem, golfkartonfabriek
25. Nieuwe brug over de Oude Dender
26. Het stadhuis van Dendermonde
27. Aanlegsteiger voor pleziervaart
28. Sint-Onolfspolder
29. De tjijsluis van Dendermonde

LEGENDE	
	natuur
	rioolwaterzuiveringsinstallatie (RWZI)
	aanlegsteiger pleziervaart
	aanlegplaats Milieuboot
	sluis
	tjijsluis
	rivieren/kanalen
	beek
	spoorweg

