


Naam:

Klas:

Opdracht 1: het Kanaal Gent-Oostende




● Zoek het kanaal op de kaart en kleur deze **blauw**.  
Deze stroomt door 2 provincies. Welke? .....

Leg het verschil uit tussen een rivier en een kanaal

Rivier: .....


● Kanaal: .....

● Heeft een kanaal een bron? JA / NEEN  
Het kanaal ontvangt via het Afleidingskanaal van de Leie en de Ringvaart water van de Leie en de Schelde. Waar komt het water van het kanaal uiteindelijk terecht? .....  
Met welke andere kanalen staat het Kanaal Gent-Oostende nog in verbinding?



Verklaar de naam van het kanaal:  
.....  
.....

## Opdracht 2: varen tussen Aalter en Beernem



Bekijk de kaart op pagina 9-3.

Duid met een pijl de richting aan waarin het water stroomt.

Verklaar:

- rechteroever: .....

.....

- linkeroever: .....

.....

Duid de rechter- (R) en linkeroever (L) ook aan op de kaart.

Onze school is gelegen op de LINKER / RECHTER oever van het kanaal (schrappen wat niet past).

Op verschillende plaatsen werd de loop van het kanaal in de geschiedenis verlegd en werden bochten rechtgetrokken. Waarom heeft men dat gedaan? .....

Geef de naam van 2 afgesneden meanders:

1. ....

2. ....

Bekijk de legende bij de kaart en kleur de cijfers bij de tekening:

**groen** voor natuur, **geel** voor bedrijven en **paars** voor ontspanning.

Daar vind je nu vooral veel NATUUR / INDUSTRIE (schrappen wat niet past).

Waar kan je aan waterrecreatie doen? In AALTER / BEERNEM (schrappen wat niet past).

Waar vind je vooral industrie langs het kanaal? In AALTER / BEERNEM (schrappen wat niet past).

Het afvalwater van de riolen wordt gezuiverd in een rioolwaterzuiveringsinstallatie (RWZI).

In welke gemeenten vind je een RWZI terug? Tip: kijk hiervoor naar de legende van de kaart.

.....



Wist je dat het afvalwater vroeger ongezuiverd in de beken en in het kanaal terecht kwam?!

# Varen op het Kanaal Gent-Oostende

## tussen Aalter en Beernem

1. Het vroegere kabelveer van Oostmolen - Aalter
2. Staalproducent Bekoert
3. AVEVE Aalter
4. De omwalde site 'Woestijngebied'
5. Campina
6. Betoncentrale Van den Broembussche
7. Rioolwaterzuiveringsinstallatie van Aalter
8. Natuurgebied 'Het Patersveld'
9. Natuurlijke kanaalbermen
10. De grenspaal tussen Oost- en West-Vlaanderen in Knesselare
11. Kerk van Sint-Joris
12. Rioolwaterzuiveringsinstallatie van Beernem
13. Natuurgebied 'Miserebocht'
14. De Kijkart: outdoor sport
15. Beemense Watersportvereniging
16. Lemahuu NV, piepschuimbedrijf
17. Dapre, vervoersbedrijf
18. Keerlus van Beernem
19. Natuurgebied 'Gretent's'
20. (Oude kanaal)arm en pluisbermen
21. Vallei van de Zandlede: vleermuisenburker en veedrinkpoel
22. Vallei van de Zandlede: de Warandeputten
23. Kerk van Moerbrugge
23. Oude scheepswaerf

