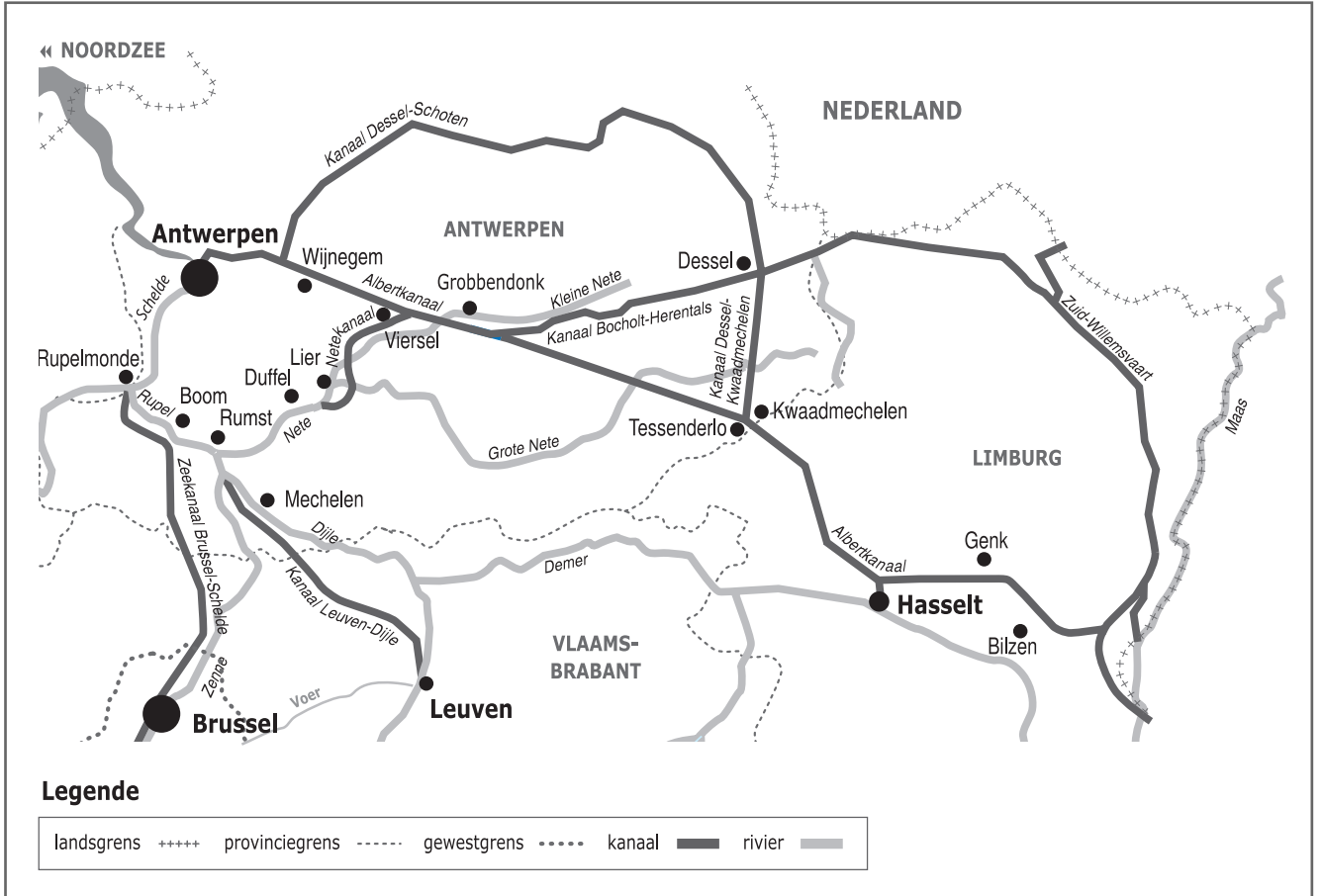



Naam:

Klas:

Opdracht 1: situering van enkele waterlopen



Weg van het water

Bekijk de kaart en vul in.

Het Netekanaal vormt de verbinding tussen en

De Nete begint aan de samenvloeiing van en

De Rupel begint waar de Dijle uitmondt in de Nete, ter hoogte van Rumst.

De Rupel mondt uit in de ter hoogte van

De Schelde mondt uit in de

Rivier of kanaal?

Het water dat in het Netekanaal stroomt, is afkomstig van de Maas. Kleur op de kaart de weg die het water aflegt in het rood. Welk kanaal vormt de verbinding tussen de Maas en het Netekanaal?




Leg het verschil uit tussen een rivier en een kanaal. Geef telkens 2 voorbeelden.

Rivier:

Kanaal:

Opdracht 2: varen tussen Duffel en Grobbendonk



Bekijk de kaart op pag. 9-3.

● Waar begint jullie boottocht? Waar eindigt deze?

● Duid met een pijl de richting aan waarin het water stroomt.

Verklaar:

- rechteroever:

- linkeroever:

Duid de rechter- (R) en linkeroever (L) ook aan op de kaart.

Onze school is gelegen op de LINKER / RECHTER oever van het kanaal (schrappen wat niet past).

● Water drinkbaar maken

Het water van het Albertkanaal en het Netekanaal is natuurlijk niet drinkbaar, maar wordt wel gebruikt om kraantjeswater van te maken. Het water wordt daarvoor uit het kanaal gepompt en naar waterspaarbekkens gebracht voor een eerste zuivering. Pas daarna gaat het water naar een drinkwaterproductiecentrum om het drinkbaar te maken. Ter hoogte van de sluis van Duffel liggen enkele waterspaarbekkens. Met welk nummer worden ze op de kaart op pag. 9.3 aangeduid?


In Grobbendonk ligt een drinkwaterproductiecentrum. Met welk nummer wordt dit op de kaart aangeduid?

Wat is de functie van nr. 16 op de kaart?

● Monden rivieren zoals de Kleine en Grote Nete uit in het kanaal? JA / NEEN

Waarom niet?

Wat gebeurt er dan met deze rivieren?



● Welke functie heeft het Afleidingskanaal van de Nete in Lier?

Geef een voorbeeld van een natuurgebied gelegen langs de Kleine Nete.

● Waarvoor worden het Nete- en het Albertkanaal o.a. gebruikt? Omcirkel het juiste antwoord:

ontspanning *scheepvaart* *drinkwater* *natuur (dieren en planten)*

Varen op het Albertkanaal en het Netekanaal

