


Naam:

Klas:

Opdracht 1: de verschillende waterwegen




- Zoek het verschil op tussen een rivier en een kanaal, ook wel vaart genoemd. Zoek van elk een voorbeeld op de kaart.

- Volgens de kaart kan je op 2 verschillende manieren van Gent naar Deinze varen. De ene weg gaat via een rivier. Welke?
 Kleur deze rivier **blauw** op de kaart p.9-3.
- De andere weg gaat via meerdere kanalen. Welke?

 Kleur deze kanalen **rood** op de kaart p.9-3.
- Op welke manier reist onze grote milieuboot het best van Gent naar Deinze? Leg uit waarom.

Opdracht 2: varen tussen Gent en Deinze



Bekijk de kaart op pagina 9-3.

Waar begint jullie boottocht?

Waar eindigt deze?

Het water van de Afleidingskanaal van de Leie stroomt van zuid naar noord.

Duid met een pijl op de kaart de stroomrichting aan.

Hoe bepaal je de linkeroever van een waterloop?

.....
.....

Hoe bepaal je de rechteroever van een waterloop?

.....
.....

Duid de rechter- (R) en linkeroever (L) van het Afleidingskanaal van de Leie aan op de kaart.


Mijn school is gelegen op de LINKER / RECHTER oever van een waterloop (omcirkel het juiste antwoord).

Kleur de cijfers bij de tekeningen: **groen** voor natuur, **geel** voor bedrijven en **paars** voor ontspanning.

Welke kleur(en) komen het meeste voor?

Wat zullen we vooral waarnemen langs de oevers van de waterlopen? (omcirkel het juiste antwoord)

NATUUR / BEDRIJVEN / ONTSPANNING



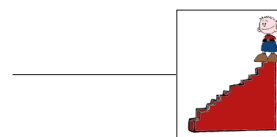
Het afvalwater van de riolen wordt gezuiverd in een rioolwaterzuiveringsinstallatie.

In welke gemeenten vind je een rioolwaterzuiveringsinstallatie terug? Tip: kijk hiervoor naar de legende van de kaart.

.....
.....

Omcirkel deze rioolwaterzuiveringsinstallaties in het **bruin**.

Op de kaart staan er, naast de waterwegen, nog 2 andere manieren waarop vrachten en personen vervoerd kunnen worden. Welke twee manieren vind je op de kaart?

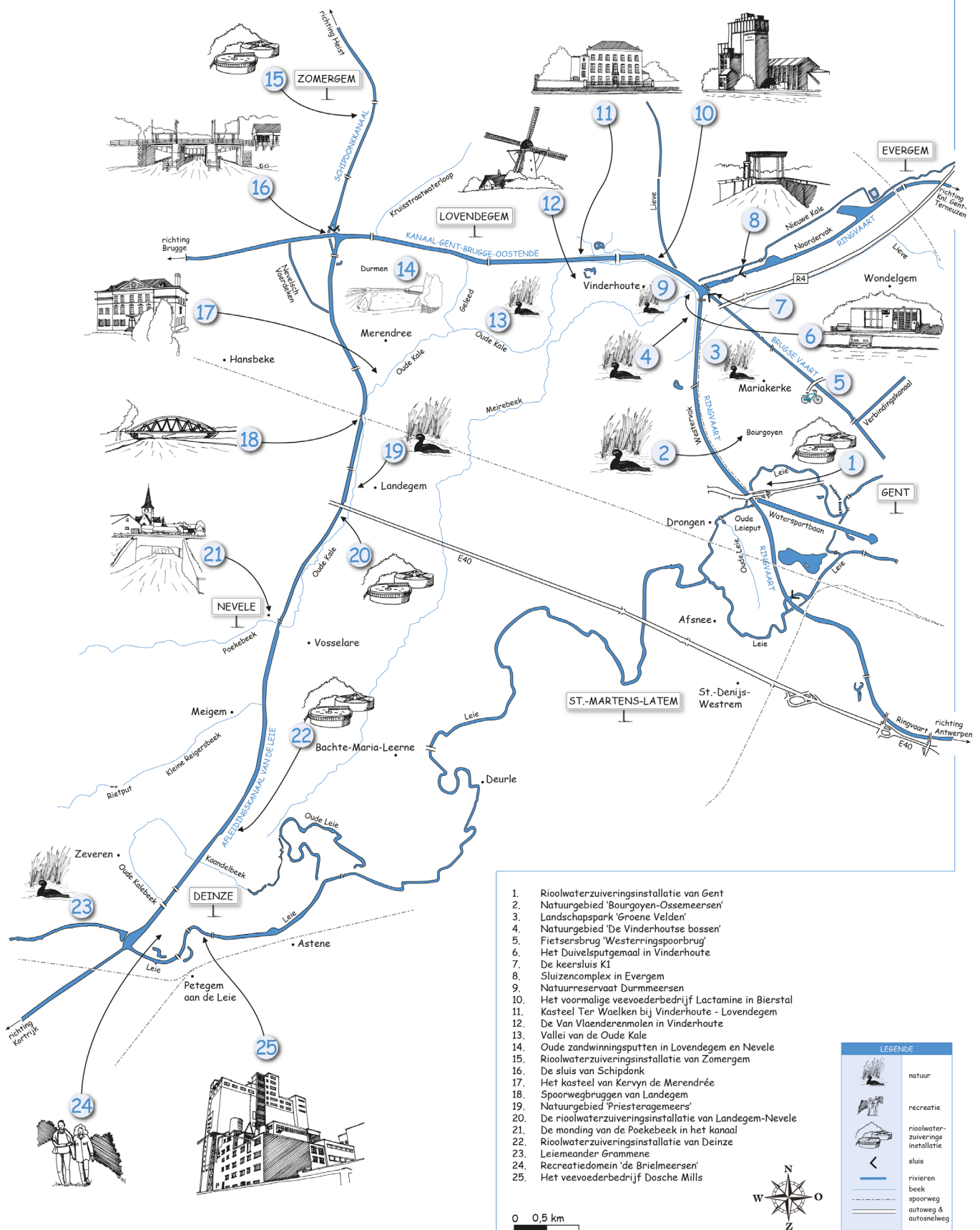


.....
.....

Welke manier(en) zijn het milieuvriendelijkst om grote vrachten te vervoeren?

.....

Varen op de Brugse Vaart, het Kanaal Gent-Brugge-Oostende en het Afleidingskanaal van de Leie, tussen Gent en Deinze



1. Rioolwaterzuiveringsinstallatie van Gent
2. Natuurgebied 'Bourgoyen-Ossemeersen'
3. Landschapspark 'Groene Velden'
4. Natuurgebied 'De Vinderhoutse bossen'
5. Fietzersbrug 'Westerringspoorbrug'
6. Het Duivelsputgemaal in Vinderhoutse
7. De keersluis KI
8. Sluizencomplex in Evergem
9. Natuurreservaat Durmeerssen
10. Het voormalige veevoederbedrijf Lactamine in Bierstal
11. Kasteel Ter Waelken bij Vinderhoutse - Lovendegem
12. De Van Vlaanderenmolen in Vinderhoutse
13. Vallei van de Oude Kale
14. Oude zandwinningsputten in Lovendegem en Nevele
15. Rioolwaterzuiveringsinstallatie van Zomergem
16. De sluis van Schipdonk
17. Het kasteel van Kervyn de Merendrée
18. Spoorwegbruggen van Landegem
19. Natuurgebied 'Priesteragemeers'
20. De rioolwaterzuiveringsinstallatie van Landegem-Nevele
21. De monding van de Poekebeek in het kanaal
22. Rioolwaterzuiveringsinstallatie van Deinze
23. Leiemander Grammene
24. Recreatiedomein 'de Brielmeersen'
25. Het veevoederbedrijf Dosche Mills

LEGENDE	
	natuur
	recreatie
	rioolwaterzuiveringsinstallatie
	sluis
	rivieren
	beek
	spoorweg
	autoweg & autosnelweg