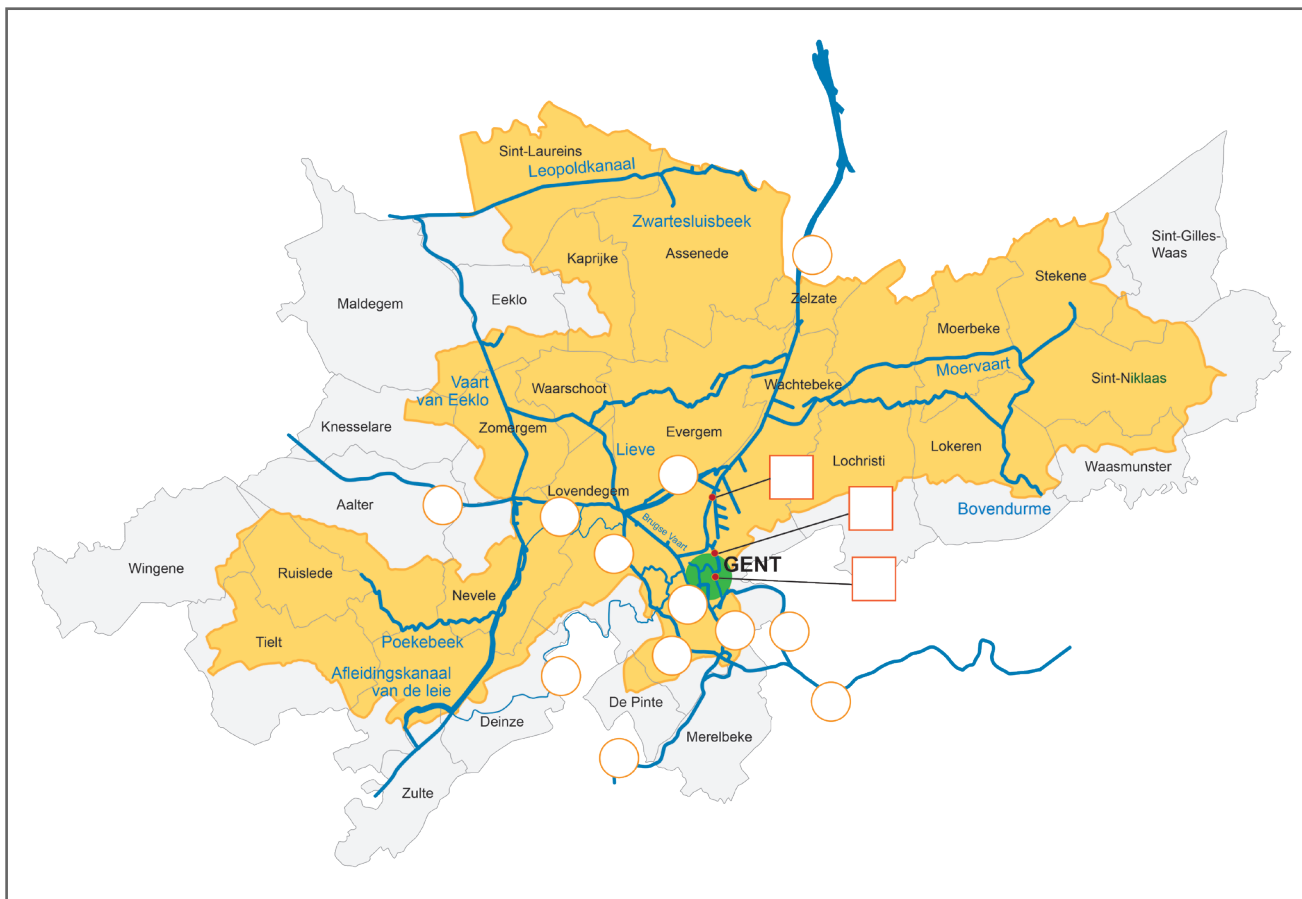



Naam:

Klas:

Opdracht 1: Waar zal ik varen?




Duid met een cijfer onderstaande waterpartijen in en rond Gent aan in de bollejtjes op de kaart. Gebruik hiervoor een atlas of kaart op het internet. (Opgelet: de cijfertjes kunnen meerdere keren voorkomen op de kaart.)

- 1 - Schelde
- 2 - Leie
- 3 - Kanaal Gent-Brugge-Oostende
- 4 - Kanaal Gent-Terneuzen
- 5 - Ringvaart

Duid met een letter onderstaande oude en nieuwe havens van Gent in de vierkantjes aan op de kaart. Gebruik hiervoor een atlas of internet.

- A - Portus Ganda
- B - Oude Dokken
- C - North Sea Port

Opdracht 2: varen door Gent



Bekijk de kaart op pagina 9-3.

- Zoek op en verklaar:
 - rechteroever:
 -
 - linkeroever:
 -
- De waterwegbeheerder zorgt er voor dat het water via Visserijvaart, langs Portus Ganda en Handelsdok, door Tolhuisdok naar het Kanaal Gent-Terneuzen stroomt.
Duid de rechter- (R) en linkeroever (L) aan op de kaarten.
De stroming en de hoeveelheid water in de stad worden 'beheerd'. Sluiswachters bedienen de sluisen en stuwen en sturen op deze manier een hoeveelheid water een bepaalde kant uit of houden het tegen.
Welke sluisen bevinden zich langs het vaartraject?
 -
 -
 -
 -
- De stad Gent kiest voor minder milieuonvriendelijk autoverkeer in de binnenstad. De fiets krijgt een belangrijke plaats op de straat. Geef een **rode** kleur aan de cijfers op de kaart die tonen dat de fiets voorrang krijgt op de auto.
- In de stad wonen heel wat mensen langs het water. Er zijn ook Gentenaren die kozen om op het water te wonen. Waar vinden we woonboten langs het vaartraject?
 -
 -Eén van de woonboten is zelfs een hotel. Waar vinden we de hotelboot langs het vaartraject?
 -
- Een dok is de plek in een haven waar schepen aanmeren om goederen te laden of te lossen. Geef de namen van de dokken die je vindt op de kaart.
 -
 -
 -
 -Deze oude dokken ontvangen geen grote vrachtschepen meer. De grote hijskranen die vroeger de schepen laadden en losten kan je nog op de kades van de dokken zien staan. Omcirkel alle hijskranen die je vindt op de kaart.
- Op de kaaimuren in de stad groeit een zeldzame plant. Zoek de naam van deze plant in de legende van de kaart.
 -Zoek een foto van deze plant op het internet. Zal je hem herkennen tijdens je milieuboottocht?

Varen op de Gentse binnenwateren

