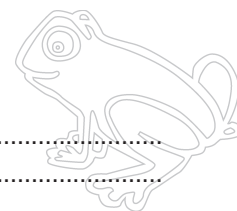



Naam:

Klas:

Opdracht 1: het Denderbekken



In welke provincie en stad ligt de **bron** van de Dender?

- Provincie: .....
- Stad: .....

In welke provincie en stad ligt de **monding** van de Dender?


- Provincie: .....
- Stad: .....

In welke rivier mondt de Dender uit? .....

Duid op de kaart met een pijl de richting aan waarin het water stroomt.

Waar gaat uiteindelijk het water naartoe? .....

## Opdracht 2: varen op de Dender



Bekijk de kaart op p. 9-3.

— Waar begint jullie boottocht? ..... Waar eindigt deze? .....

— Duid met een pijl de richting aan waarin het water stroomt.

Hoe bepaal je de linkeroever van de Dender?

.....  
 .....

Hoe bepaal je de rechteroever van de Dender?

.....  
 .....

Duid de rechter- (R) en linkeroever (L) aan op de kaart.

Mijn school is gelegen op de LINKER / RECHTER oever van de Dender (omcirkel het juiste antwoord).

— Tussen Ath en Dendermonde moeten de schepen een hoogteverschil van 30 m overbruggen.


Ath ligt namelijk 30 m hoger dan Dendermonde.

Hoe wordt dit verschil overbrugd? .....

Door welke sluzen gaat de milieuboot varen? Met welke nummers worden deze op de kaart aangeduid?


.....  
 .....

## Opdracht 3: meanders



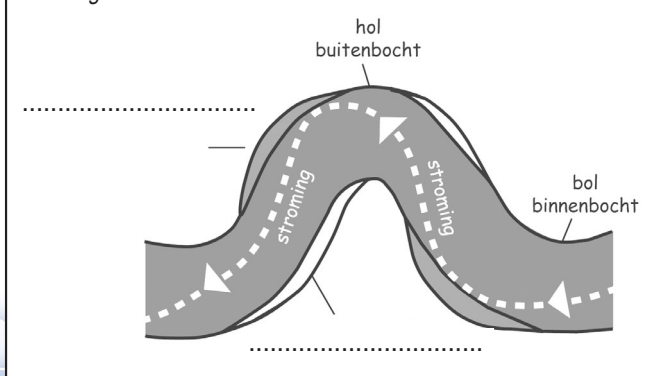
— Een natuurlijke rivier heeft kronkels of meanders.

Aan de bolle oever, bij de binnenbocht, stroomt het water traag en is er afzetting van bodem. Aan de holle oever, bij de buitenbocht, stroomt het water snel, botst het tegen de oever en schuurt zo de bodem weg.



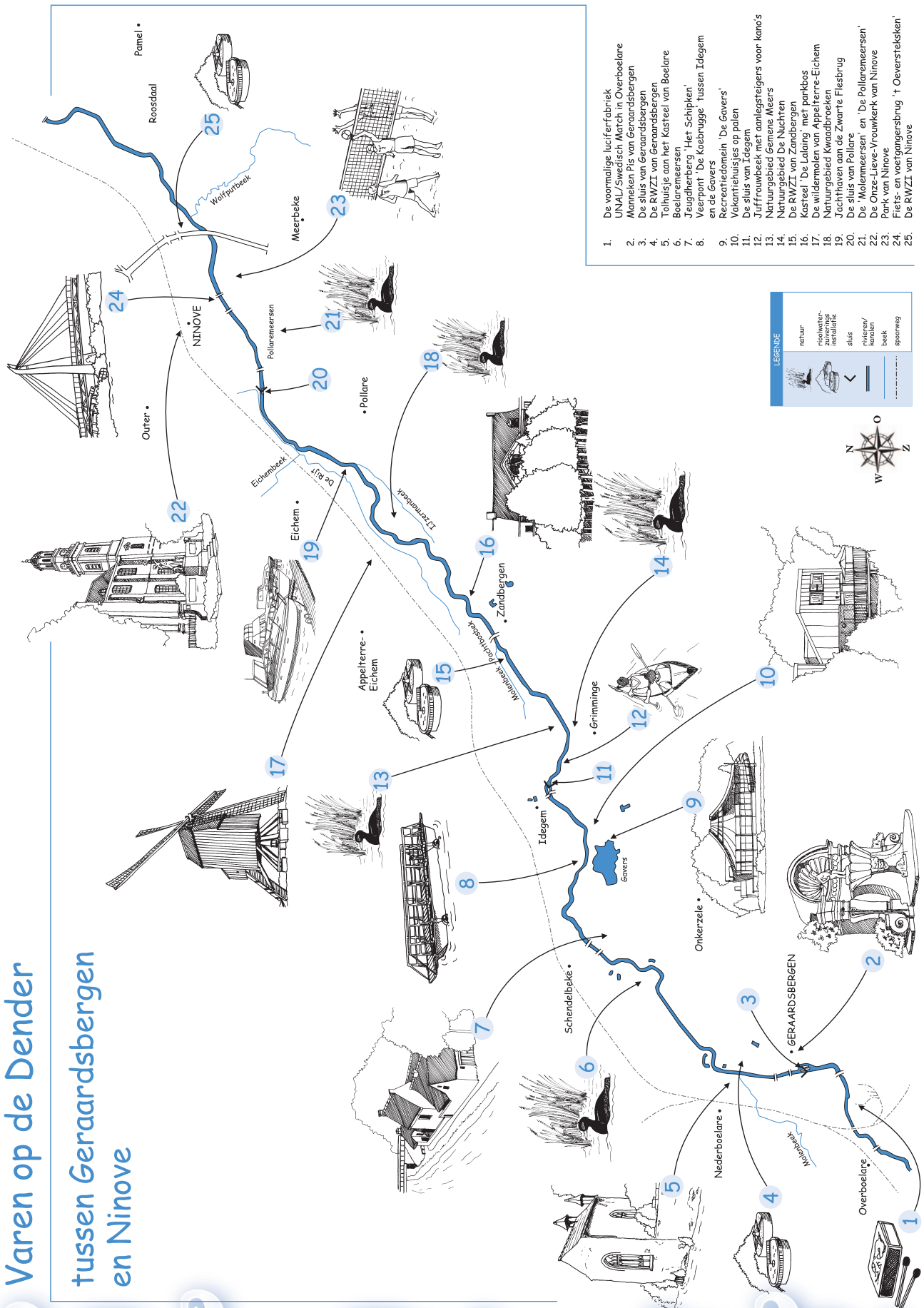
Tekening 1: doorsnede rivier

Tekening 2: bovenaanzicht rivier



Kleur op tekening 2 het deel van de oever dat weggeschuurd wordt rood en het deel dat afgezet wordt groen. Vul de woorden **uitholling** en **afzetting** op beide tekeningen aan.

# Varen op de Dender tussen Geraardsbergen en Ninove



1. De voormalige luciferfabriek UNAL/Swedisch Match in Overboelare
2. Marmekien Pis van Geraardsbergen
3. De sluis van Geraardsbergen
4. De RWZI van Geraardsbergen
5. Tolhuisje aan het Kasteel van Boelare
6. Boelaremeersen
7. 'Jeugdherberg' 'Het Schipken'
8. Veerpont 'De Koerbrugge' Tussen Iddegem en de Gavers
9. Recreatiedomein 'De Gavers'
10. Vakantiehuisjes op palen
11. De sluis van Iddegem
12. Juffrouwebeek met aantegsteigers voor kano's
13. Natuurgebied Gemeene Meers
14. Natuurgebied De Nuchten
15. De RWZI van Zandbergen
16. Kasteel 'de Lalang' met parkbos
17. De wildermolen van Appelterre-Eichem
18. Natuurgebied Kwaadbroeken
19. Jachthaven aan de Zwarte Flesbrug
20. De sluis van Pollare
21. De 'Mollemersers' en 'De Pollaremeersen'
22. De Onze-Lieve-Vrouwekerk van Ninove
23. Park van Ninove
24. Fiets- en voetgangersbrug 'Overstelskiken'
25. De RWZI van Ninove